

ESTONIA

Eesti

(nome originale del Paese)

lat. 60°-58° N; long. 22°-28° E

L'Estonia è nell'Unione europea



La bandiera nasce del 1918, ma è più antica. Quando l'URSS conquista l'Estonia nel 1940, nessuno può più usare questa bandiera. Dal 1989 le persone possono usare di nuovo questa bandiera.

I colori sono il blu, il nero e il bianco. IL blu rappresenta il desiderio di libertà, il nero rappresenta i morti per la libertà, il bianco rappresenta la speranza.

Capitale (città più importante)	Tallin
Città importanti	Tartu, Narva
Lingua	Estone
Abitanti (quante persone vivono nel Paese)	1.341.140
Superficie (quanto è grande il Paese)	45.228 km ²
Densità della popolazione (quante persone vivono in un km ²)	28 abitanti per km ²
Moneta	Euro
Governo	Repubblica parlamentare (significa che c'è il Parlamento che fa nuove leggi e rispetta una Costituzione)
Religione	Cristiani ortodossi (16%), cristiani protestanti (11%), atei/non religiosi (54%)
PIL per abitante (Prodotto Interno Lordo, è il valore di tutto quello che un Paese produce. Il PIL per abitante è diviso tra gli abitanti)	16.720 dollari (per abitante per anno)
ISU (Indice di Sviluppo Umano, indica lo sviluppo di un Paese in una classifica dei Paesi del mondo)	34° posto

Come si chiamano i bambini lettoni? Olga e Aleksandr.

Confini


Il Mar Baltico bagna a Nord e a Ovest l'Estonia, poi l'Estonia confina a Est con la Russia e a Sud con la Lettonia. L'Estonia ha molte isole, le più importanti sono Saaremaa e Hiiumaa.

Territorio

Osserva la carta fisica dell'Estonia: il territorio è pianeggiante (con pianure).

In Estonia ci sono molti laghi, il più grande è il Lago dei Ciudi. Questo lago segna il confine con la Russia.

In Estonia ci sono molte zone paludose (con paludi).



Osserva un'immagine della capitale dell'Estonia, Tallin:



L'Estonia è il Paese più a Nord tra le tre Repubbliche baltiche (che sono: Estonia, Lettonia, Lituania). Le persone chiamano questi Paesi "Repubbliche baltiche" perché il Mar Baltico bagna le loro coste.

Clima

Il clima dell'Estonia è temperato freddo con inverni freddi ed estati abbastanza calde. Il Mar Baltico mitiga (non rende più fresco o più caldo) abbastanza il clima del Paese, specialmente sulle coste.

Storia

In tempi molto antichi qui vivevano gli Esti.

Poi arrivano i Variaghi (Vichinghi che arrivano dalla Norvegia) che viaggiano verso l'Ucraina.

Nel 1700 la Svezia dà alla Russia le tre Repubbliche baltiche. Prima l'impero russo e poi l'URSS mantengono (tengono) il potere in Estonia fino al 1989.

Dal 1991 l'Estonia è libera e indipendente.

Nel 2004 l'Estonia è entrata nella Unione europea.

Economia

In Estonia la situazione economica è buona.

Gli estoni lavorano per il 3% nel settore primario. Le persone coltivano soprattutto cereali e patate. Le persone allevano suini (maiali), bovini (mucche) e esportano (vendono all'estero) legname (legno).

Gli estoni lavorano per il 30% nel settore secondario, soprattutto nelle fabbriche alimentari, meccaniche, chimiche, elettroniche.

Gli estoni lavorano per il 66% nel settore terziario, soprattutto nel commercio (comprare e vendere) e nel turismo.

Popolazione

Gli estoni sono circa il 70% degli abitanti. I russi sono il 24%.

Circa il 7% degli abitanti dell'Estonia (russi che sono arrivati dalla Russia negli anni 1917-1989) non hanno né la cittadinanza dell'Estonia, né quella russa: queste persone sono senza passaporto (cioè hanno solamente un "passaporto grigio" che permette loro di tornare in Russia).

La lingua estone non è indoeuropea; è una lingua ugro-finnica simile al finlandese.

Buongiorno!

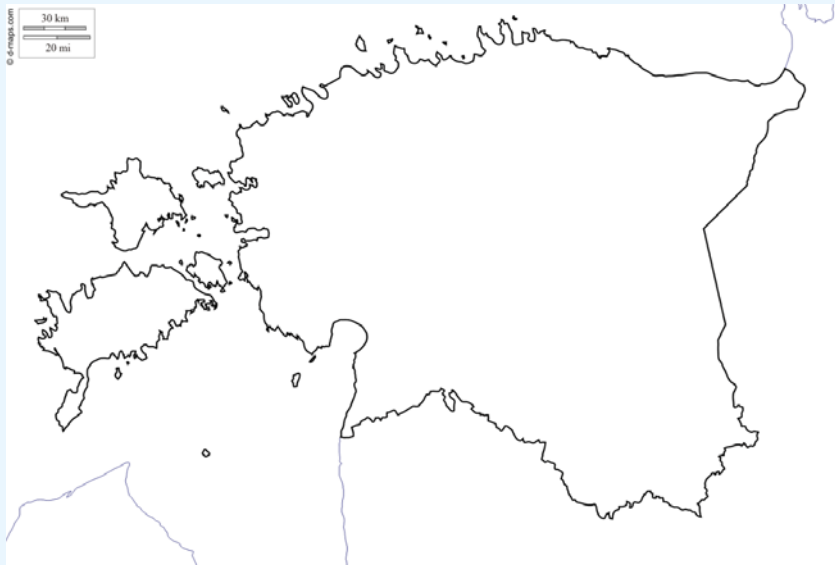
Ecco come le persone dicono buongiorno in lingua estone:

Tere hommikust!

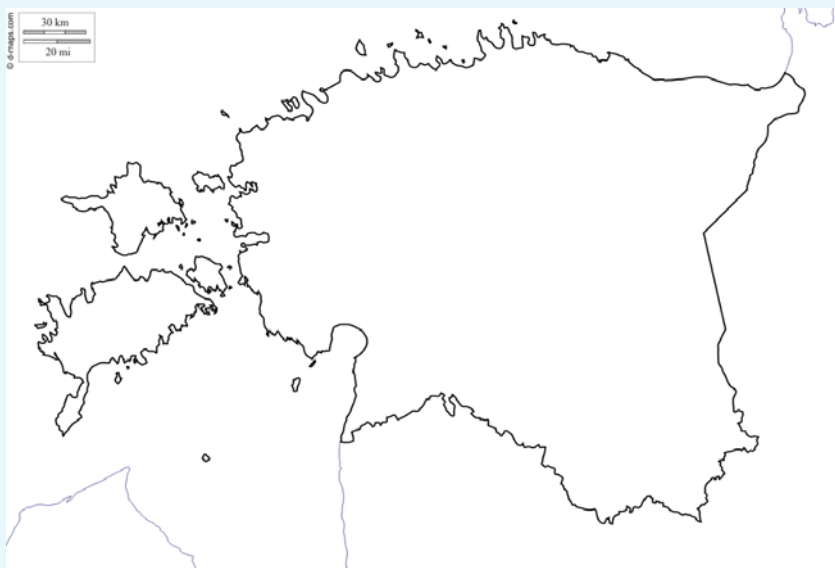




1. Colora il territorio dell'Estonia; ricorda che le pianure sono verdi, le colline giallo-marroni, le montagne marroni.



2. In questa cartina segna la capitale dell'Estonia e le sue città più importanti:



3. In questa tabella indica gli elementi importanti del territorio estone (dell'Estonia):

Nel territorio ci sono	Scrivi il lago più importante dell'Estonia	In Lituania il clima è
<input type="checkbox"/> montagne <input type="checkbox"/> colline <input type="checkbox"/> pianure	<input type="checkbox"/> -----	<input type="checkbox"/> atlantico <input type="checkbox"/> mediterraneo <input type="checkbox"/> temperato



4. Scrivi in questa tabella le persone che lavorano nei tre settori economici:

Settore primario	Settore secondario	Settore terziario
----- %	----- %	----- %

5. Scrivi quali sono le tre Repubbliche baltiche:

-----	-----	-----
-------	-------	-------

6. Chi ha il “passaporto grigio” in Estonia? A che cosa serve?

7. Scrivi il saluto estone e, se puoi, ascoltalo sul web:
